



Prefeitura Municipal de São José de Ribamar
CNPJ n.º 06.351.514/0001-78

**CONCURSO PÚBLICO PARA PROVIMENTO DE
CARGOS EFETIVOS E FORMAÇÃO DE CADASTRO DE RESERVA NA
ADMINISTRAÇÃO PÚBLICA DA PREFEITURA MUNICIPAL DE
SÃO JOSÉ DE RIBAMAR-MA**

EDITAL Nº 001, DE 11/05/2011

PROVA DE CONHECIMENTOS

Guarda Patrimonial

INSTRUÇÕES

- Verifique se este caderno contém **30** questões, sendo **10** de Língua Portuguesa, **10** de Matemática e **10** de Conhecimentos Específicos.
- Verifique na Folha de Respostas se o seu nome e o número do documento de identificação estão corretos.
- Em cada questão, você deve assinalar somente uma das alternativas e na forma correta, conforme indicação ao lado.
- Será anulada a questão que contiver emenda, rasura ou, ainda, a que apresentar mais de uma alternativa assinalada na Folha de Respostas.
- Ao marcar a alternativa correta na Folha de Respostas, use caneta esferográfica de tinta preta, ponta grossa.

CERTO					ERRADO						
	A	B	C	D	E		A	B	C	D	E
1	<input checked="" type="radio"/>	<input type="radio"/>	<input type="radio"/>	<input type="radio"/>	<input type="radio"/>	21	<input checked="" type="radio"/>	<input type="radio"/>	<input type="radio"/>	<input type="radio"/>	<input type="radio"/>
2	<input type="radio"/>	<input checked="" type="radio"/>	<input type="radio"/>	<input type="radio"/>	<input type="radio"/>	22	<input checked="" type="radio"/>	<input checked="" type="radio"/>	<input type="radio"/>	<input type="radio"/>	<input type="radio"/>
3	<input type="radio"/>	<input type="radio"/>	<input checked="" type="radio"/>	<input type="radio"/>	<input type="radio"/>	23	<input type="radio"/>	<input checked="" type="radio"/>	<input checked="" type="radio"/>	<input type="radio"/>	<input type="radio"/>
4	<input type="radio"/>	<input type="radio"/>	<input type="radio"/>	<input checked="" type="radio"/>	<input type="radio"/>	24	<input type="radio"/>	<input type="radio"/>	<input checked="" type="radio"/>	<input checked="" type="radio"/>	<input type="radio"/>
5	<input type="radio"/>	<input type="radio"/>	<input type="radio"/>	<input type="radio"/>	<input checked="" type="radio"/>	25	<input type="radio"/>	<input checked="" type="radio"/>	<input type="radio"/>	<input type="radio"/>	<input type="radio"/>
6	<input type="radio"/>	<input type="radio"/>	<input type="radio"/>	<input type="radio"/>	<input checked="" type="radio"/>	26	<input checked="" type="radio"/>	<input type="radio"/>	<input type="radio"/>	<input checked="" type="radio"/>	<input type="radio"/>

- Ao final da prova, devolva ao fiscal de sala a Folha de Respostas assinada no local indicado.
- Os 2 (dois) últimos candidatos de cada sala só poderão ser liberados juntos.

Boa prova!

A duração total da prova é de 4 horas. Esse tempo inclui a marcação da Folha de Respostas.
Você só poderá levar o Caderno de Provas após transcorridas 3h (três horas) do início das provas.

NOME _____	INSCRIÇÃO _____	DATA / HORÁRIO _____
------------	-----------------	----------------------

PCI Concursos

Língua Portuguesa

Texto **A** para responder às questões **01** e **02**.

Nessa história, quem mais perdeu foram os japas da Honda, que bancaram um carro vencedor e na hora de colher os louros entregaram tudo de mão beijada ao Ross Brawn. Não esquecendo que o carro foi aprovado pela FIA, mesmo estando fora das especificações legais. Talvez se fosse da Honda, o papo cabeça seria outro. Já imaginou o Senninha, no seu ano de estreia, correndo num carro vencedor e ainda ganhando duas ou mais provas no seu primeiro ano?

(adaptado de <http://www.jmonline.com.br/novo/?noticias>)

01

No trecho acima, o padrão formal de linguagem se mistura a marcas de coloquialismo, linguagem informal. Assinale a alternativa em que o trecho pertence à variedade de padrão formal.

- a) “hora de colher os louros”
- b) “que bancaram um carro vencedor”
- c) “e ainda ganhando duas ou mais provas no seu primeiro ano?”
- d) “entregaram tudo de mão beijada ao Ross Brawn.”
- e) “o papo cabeça seria outro.”

02

No trecho “*Não esquecendo que o carro foi aprovado pela FIA, **mesmo** estando fora das especificações legais.*”, o termo destacado estabelece, em relação ao que foi apresentado anteriormente, uma ideia de:

- a) condição.
- b) consequência.
- c) causalidade.
- d) finalidade.
- e) concessão.

Texto **B** para responder às questões **03** e **04**.

Jovens entre 18 e 24 anos são os que mais consomem álcool no país. Segundo a secretária nacional de Políticas sobre Drogas, Paulina Duarte, 9% dessa população bebem mais de cinco doses de álcool em menos de duas horas. Muitos deles consomem bebidas alcoólicas mais de uma vez por semana.

(adaptado de <http://www.oimparcial.com.br/app/noticia.shtml>)

03

Em “*Jovens entre 18 e 24 anos são **os** que **mais** consomem álcool*”, os termos destacados, neste contexto, são classificados, respectivamente, como:

- a) pronome e advérbio.
- b) artigo e advérbio.
- c) artigo e pronome.
- d) pronome e preposição.
- e) artigo e preposição.

04

Em “***Segundo** a secretária nacional de Políticas sobre Drogas*”, o termo destacado expressa uma ideia de:

- a) alternância.
- b) condição.
- c) exclusão.
- d) conformidade.
- e) comparação.

05

Leia a frase a seguir.

Embora estivesse muito doente, não deixei de ir às aulas da faculdade.

Assinale a alternativa que apresenta a mesma relação de sentido que na frase acima.

- a) “...se houver divergência interna no governo, quem decide é a presidente Dilma Rousseff.”
(Veja – Janeiro/2011)
- b) “Copom indica mais um aumento da taxa Selic, apesar de ver sinais de melhora da inflação.”
(Veja – Abril/2011)
- c) “Tudo que escrevi aqui até agora foi para contornar um assunto espinhoso.”
(Lya Luft)
- d) “Segundo Daniel Lorenz, os terroristas se aproveitam da fragilidade das leis brasileiras.”
(Veja – Abril/2011)
- e) “À medida que o crescimento monetário aumenta, também aumenta a inflação.”
(www.econ.puc-rio.br)

06

Assinale a alternativa em que o trecho apresentado **NÃO** possui, de modo explícito, relações de sentido opostas.

(Os trechos foram extraídos da revista Veja de 20 de junho de 2011, com adaptações)

- a) “O clima que deveria ser sério, no fim, acaba ficando cômico.”
- b) “Mas, se o brasileiro é tão esperto assim, por que está sempre no papel do otário em todo relacionamento que tem com o governo?”
- c) “Não acredita nem desacredita; ou vê e faz que não vê. Ou seja, alguém vai duvidar, se o governo pede para acreditar?”
- d) “O governo, ou quem manda no governo, tenta convencer a opinião pública de que coisas que todo mundo está vendo não existem – ou que existem coisas que ninguém consegue ver: ser ou não ser?”
- e) “Lula fez uma conferência para a Tetra Pak, multinacional do ramo de embalagens; recebeu, pelas informações disponíveis, 200.000 reais.”

07

Na língua portuguesa, existem vários recursos linguísticos usados para o melhor proveito das relações de sentido de um texto. Ao lado da imagem abaixo, está representado um recurso da língua chamado:



- a) sinestesia.
- b) paráfrase.
- c) paronímia.
- d) polissemia.
- e) antonímia.

08

Observe abaixo as várias acepções constantes no *Dicionário On Line Houaiss*, para a palavra “romper”.

- I. Fazer parar ou parar por algum tempo; cortar, interromper(-se), suspender(-se).
- II. Dar início ou iniciar; começar, principiar.
- III. Começar a aparecer; despontar, mostrar-se.

Romper no sentido descrito no item I está representado na alternativa:

- a) O choro das crianças rompeu o silêncio e, logo, nosso sossego.
- b) O sol, no verão, rompe cedo.
- c) A água rompeu da terra.
- d) Os boêmios romperam a madrugada com o lirismo da lua.
- e) O carnaval rompe na chamada sexta-feira gorda.

Leia a frase a seguir para responder às questões **09** e **10**.

09

“*Grupos de cacuriá, dança portuguesa, bumba boi e shows estão na programação da festa junina.*”

(<http://imirante.globo.com/oestadoma>-adaptado)

O uso do elemento coesivo destacado na frase expressa uma ideia de:

- a) oposição ao que foi dito anteriormente.
- b) adição de mais um elemento na enumeração.
- c) explicação do que será enumerado posteriormente.
- d) alternância em relação às ideias anteriores.
- e) proporcionalidade em relação às ideias apresentadas.

10

O uso das vírgulas na frase acima justifica-se por

- a) separar vários tipos de aposto na frase.
- b) marcar inversão do adjunto adnominal.
- c) separar elementos que exercem mesma função sintática.
- d) marcar elipse de um verbo.
- e) isolar complemento nominal invertido.

Matemática

11

Faço aniversário no dia 5 e, no ano em que completei 30 anos, o mês do meu aniversário teve cinco sextas-feiras, cinco sábados e cinco domingos. Nesse ano, meu aniversário foi:

- a) na terça-feira.
- b) na quinta-feira.
- c) no sábado.
- d) no domingo.
- e) na quarta-feira.

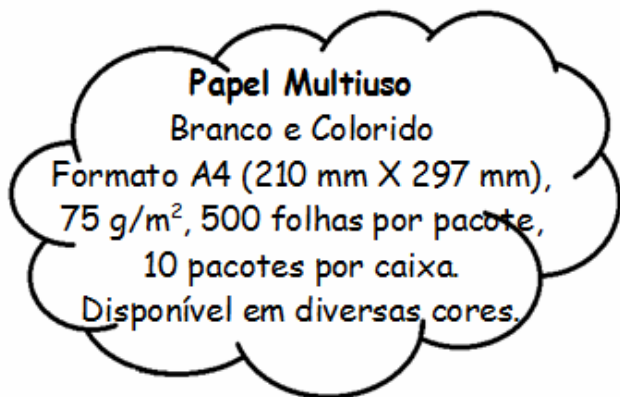
12

A abreviatura correta para “10 metros e 15 centímetros” é **10,15 m**. A abreviatura correta para “10 horas e 15 minutos” é **10 h 15 min**, pois **10,15 h** corresponde a:

- a) 10 h 12 min
- b) 10 h 20 min
- c) 10 h 9 min
- d) 10 h 16 min
- e) 10 h 24 min

13

Observe a especificação do papel na publicidade abaixo.



Com o objetivo de obter contas mais simples, vamos admitir uma pequena alteração no formato: **210 mm por 300 mm**. Com essa alteração e considerando que a embalagem de um pacote pese 17,5 g e o peso da embalagem para 10 pacotes (caixa vazia) seja 200 g, é **CORRETO** afirmar que uma caixa com dez pacotes desse papel pesa:

- a) 17,85 kg
- b) 20 kg
- c) 22,5 kg
- d) 20.300 g
- e) 24 kg

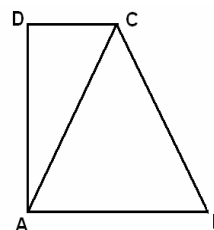
14

O tanque de combustível do meu carro comporta 50 litros. Encho esse tanque, colocando 30 litros de gasolina ao preço de R\$ 2,50 por litro e 20 litros de etanol, ao preço de R\$ 1,75 por litro. O preço de um litro dessa mistura é:

- a) R\$ 2,25
- b) R\$ 2,125
- c) R\$ 2,20
- d) R\$ 2,00
- e) R\$ 4,25

15

Na figura a seguir, **ABC** é um triângulo equilátero de $4\sqrt{3}$ cm² de área.



Se **ABCD** é um trapézio retângulo, então sua área mede

- a) $8\sqrt{3}$ cm²
- b) $6\sqrt{3}$ cm²
- c) $\frac{9\sqrt{3}}{2}$ cm²
- d) 4 cm²
- e) 8 cm²

16

Considere os números **a**, **b**, **c**, **k** e **n**, todos inteiros e positivos, de modo que **k** seja divisor comum de **a**, **b** e **c**, e analise as afirmações seguintes.

- I. **k** é divisor de $(a + b + c)$
- II. **k** é divisor de $(a \cdot b \cdot c)$
- III. **k** é divisor de a^{b+c}
- IV. **k** é divisor de $(a + b) \cdot (c + n)$
- V. **k** é divisor de $a^n \cdot (b + c)$

Estão **CORRETAS**

- a) III, IV e V, apenas.
- b) I e II, apenas.
- c) I, II, IV e V, apenas.
- d) I, II e V, apenas.
- e) I, II, III, IV e V.

17

Pedro tem 1 real a menos que Luís e, por isso, resolveu oferecer a Luís seus serviços: cobraria 2 reais para fazer um certo trabalho que Luís deveria fazer. Se Luís aceitar essa proposta e pagar os 2 reais a Pedro:

- a) Pedro ficará com 2 reais a mais que Luís.
- b) Luís ficará com 1 real a menos que Pedro.
- c) Luís ficará ainda com 1 real a mais que Pedro.
- d) Pedro ficará com 3 reais a mais que Luís.
- e) Pedro ficará com 1 real a menos que Luís.

18

Analise as afirmações:

- I. Para aumentar o preço de um objeto em 22%, basta multiplicar o preço atual por 1,22.
- II. Para obter o valor de um desconto de 17%, basta dividir o preço por 1,17.
- III. Para aumentar um preço em 300%, basta multiplicar o preço atual por 4.
- IV. Para obter o valor a ser pago por um objeto, cujo preço sofrerá um desconto de 28%, basta multiplicar o preço por 0,28.
- V. Dois aumentos sucessivos de 10% acarretam um aumento de 21%.

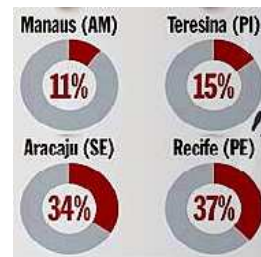
Estão **CORRETAS** apenas:

- a) I e II.
- b) I, III e V.
- c) I, II e IV.
- d) II e IV.
- e) II, III e V.

19

AS CAPITALS DA PORCARIA

Das 27 capitais brasileiras, somente sete têm mais de 80% de seus domicílios conectados à rede de coleta de dejetos. Os centros com maiores *deficit* nesse serviço estão nas regiões Norte e Nordeste.



Fontes: Instituto Trata Brasil e Ministério das Cidades

Revista Veja, 25 de maio de 2011 (com adaptações)

De acordo com o IBGE, no Censo 2010, os números de domicílios nas quatro cidades indicadas são os seguintes:

Cidade	Domicílio ^(*)
Manaus	516.000
Teresina	253.000
Aracaju	197.000
Recife	515.000

(*) Números aproximados por questões didáticas

Com base nas informações apresentadas, assinale a alternativa **CORRETA**, relativamente a essas quatro cidades.

- a) Há mais domicílios conectados à rede de coleta de dejetos em Manaus que em Teresina.
- b) A maior quantidade de domicílios conectados à rede de coleta de dejetos está em Manaus.
- c) O número de domicílios existentes não conectados à rede de coleta de dejetos é menor em Manaus.
- d) O índice apresentado para Recife é o maior, mas nessa cidade a quantidade de domicílios conectados à rede de coleta de dejetos é a menor.
- e) A cidade com menor número de domicílios é, também, a que tem mais domicílios não conectados à rede de coleta de dejetos.

20

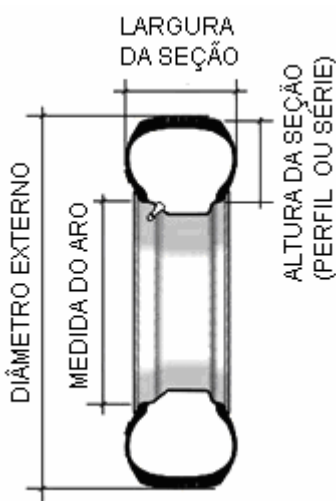
Os pneus radiais para automóveis e os pneus para caminhões e ônibus do tipo "sem câmara", possuem normalmente uma marcação lateral do tipo

xxx/yy Rdd.

Essa marcação identifica as medidas do pneu:

- **xxx** define a largura do pneu em milímetros.
- **yy** define a relação entre a altura e a largura do pneu, em porcentagem.
- **R** é uma letra que define o tipo de pneu (R=Radial).
- **dd** é o diâmetro do aro ou roda correspondente em polegadas.

Veja a ilustração:



Por exemplo, nas condições ideais especificadas pelo fabricante, um pneu **295/80 R22,5**, para uso em caminhões e ônibus, possui largura de 295 mm, altura do flanco de aproximadamente 236 mm (80% de 295 mm) e é montado em rodas de 22,5 polegadas, sem câmara de ar.

(Adaptado de <http://pt.wikipedia.org>)

Admitindo que 1 polegada corresponde a 2,5 cm e supondo respeitadas as condições ideais especificadas pelo fabricante, um pneu 205/55 R16, montado em sua respectiva roda, possui diâmetro externo de:

- 512,75 mm
- 24,50 cm
- 625,50 mm
- 455,00 mm
- 26,50 cm

Conhecimentos Específicos

21

Segundo as disposições de Segurança Pública previstas no art. 144 da Constituição Federal de 1988, é **CORRETO** o que se afirma em:

- Às polícias civis, dirigidas por delegados de polícia de carreira, cabem a polícia ostensiva e a preservação da ordem pública.
- Às polícias civis incumbe a execução de atividades de defesa civil, além das atribuições definidas em lei.
- A polícia rodoviária federal, órgão permanente, organizado e mantido pela União e estruturado em carreira, destina-se, na forma da lei, ao patrulhamento ostensivo das ferrovias federais.
- Às polícias militares incumbem, ressalvada a competência da União, as funções de polícia judiciária e a apuração de infrações penais, exceto as militares.
- A polícia federal destina-se, entre outras atribuições, a exercer as funções de polícia marítima, aeroportuária e de fronteiras.

22

Segundo o art. 7º da Constituição Federal de 1988, são direitos dos trabalhadores urbanos e rurais:

- Igualdade de direitos entre o trabalhador com vínculo empregatício permanente e o trabalhador avulso.
- Receber seguro-desemprego, em caso de desemprego voluntário.
- Receber participação nos lucros ou resultados, vinculada à remuneração.
- Receber aviso prévio proporcional ao tempo de serviço, sendo no mínimo de 20 dias, nos termos da lei.
- Ter a duração do trabalho normal não superior a 8 horas diárias e quarenta horas semanais, facultada a compensação de horários.

23

A disposição de admitir, nas outras pessoas, os modos de pensar, de agir e de sentir diferentes dos nossos, é um indicativo de:

- eficiência.
- objetividade.
- tolerância.
- comunicabilidade.
- motivação.

24

Subtrair, para si ou para outrem, coisa alheia móvel é considerado:

- a) usurpação.
- b) roubo.
- c) extorsão.
- d) furto.
- e) dano.

25

Qual das alternativas abaixo apresenta **CORRETAMENTE** o conceito de segurança patrimonial?

- a) Atividade de vigilância exercida com a finalidade de garantir a incolumidade física de pessoas, incluindo o retorno do vigilante com o respectivo armamento e demais equipamentos, com os pernoites estritamente necessários.
- b) Atividade exercida dentro dos limites dos estabelecimentos, urbanos ou rurais, públicos ou privados, com a finalidade de garantir a incolumidade física das pessoas e a integridade do patrimônio no local, ou nos eventos sociais.
- c) Atividade que visa garantir o transporte de qualquer tipo de carga ou de valores, incluindo o retorno da guarnição com o respectivo armamento e demais equipamentos, com os pernoites estritamente necessários.
- d) Atividade de transporte de numerário, bens ou valores, mediante a utilização de veículos comuns ou especiais.
- e) Atividade de formação, especialização e reciclagem dos vigilantes.

26

Sobre as noções básicas de prevenção, controle e combate a incêndios, é **CORRETO** o que se afirma em:

- a) O método de extinção do fogo por abafamento consiste em tirar o calor do material, utilizando-se um agente extintor que reduza a temperatura do material em chamas.
- b) O cigarro deve ser apagado antes de deixá-lo em um cinzeiro ou de jogá-lo em uma lixeira, a menos que esse recipiente seja uma caixa de areia.
- c) Os corredores, escadas e saídas de emergência não devem ser usados como depósito, salvo se for provisoriamente.
- d) Toda porta corta-fogo deve abrir sempre no sentido de entrada das pessoas.
- e) O extintor de água pressurizada não é indicado para combate a incêndio em álcool ou similar. Nesse caso, o agente extintor indicado é o Pó Químico.

27

Qual a sequência **CORRETA** dos procedimentos a serem realizados na aplicação da técnica de respiração boca-a-boca?

- a) Coloque sua boca sobre a boca do socorrido; Inspire profundamente; Aperte as narinas do socorrido de modo a impedir a saída do ar; Sobre dentro da boca do socorrido, não deixando escapar o ar; Afaste-se e inspire novamente.
- b) Aperte as narinas do socorrido de modo a impedir a saída do ar; Inspire profundamente; Coloque sua boca sobre a boca do socorrido; Sobre dentro da boca do socorrido, não deixando escapar o ar; Afaste-se e inspire novamente.
- c) Sobre dentro da boca do socorrido, não deixando escapar o ar; Aperte as narinas do socorrido de modo a impedir a saída do ar; Afaste-se e inspire novamente; Coloque sua boca sobre a boca do socorrido; Inspire profundamente.
- d) Inspire profundamente; Coloque sua boca sobre a boca do socorrido; Afaste-se e inspire novamente; Sobre dentro da boca do socorrido, não deixando escapar o ar; Aperte as narinas do socorrido de modo a impedir a saída do ar.
- e) Aperte as narinas do socorrido de modo a impedir a saída do ar; Sobre dentro da boca do socorrido, não deixando escapar o ar; Inspire profundamente; Coloque sua boca sobre a boca do socorrido; Afaste-se e inspire novamente.

28

Coloque **V** ou **F** nas afirmações abaixo, conforme sejam verdadeiras ou falsas, respectivamente.

- () Ninguém será privado de direitos por motivo de crença religiosa ou de convicção filosófica ou política, salvo se as invocar para eximir-se de obrigação legal a todos imposta e recusar-se a cumprir prestação alternativa, fixada em lei.
- () Constitui crime inafiançável e imprescritível a ação de grupos armados, civis ou militares, contra a ordem constitucional e o Estado Democrático.
- () Não é obrigatória a participação dos sindicatos nas negociações coletivas de trabalho.
- () O Estado indenizará o condenado por erro judiciário, assim como o que ficar preso além do tempo fixado na sentença.
- () O mandado de segurança coletivo pode ser impetrado apenas por partido político com representação no Congresso Nacional.

A sequência **CORRETA**, de cima para baixo, é:

- a) V, V, F, V, F.
- b) V, F, V, V, F.
- c) F, F, V, F, V.
- d) F, V, F, V, F.
- e) V, F, F, F, V.

29

O crime de fraude no comércio se caracteriza por:

- a) emitir conhecimento de depósito ou *warrant*, em desacordo com disposição legal.
- b) tomar refeição em restaurante, alojar-se em hotel ou utilizar-se de meio de transporte sem dispor de recursos para efetuar o pagamento.
- c) promover a fundação de sociedade por ações, fazendo, em prospecto ou em comunicação ao público ou à assembleia, afirmação falsa sobre a constituição da sociedade, ou ocultando fraudulentamente fato a ela relativo.
- d) enganar, no exercício de atividade comercial, o adquirente ou consumidor.
- e) fraudar execução, alienando, desviando, destruindo ou danificando bens, ou simulando dívidas.

30

A respeito do trabalho em equipe, analise cada informação abaixo, assinalando **V** para verdadeira e **F** para falsa.

- () O trabalho em equipe não é apenas um conjunto de pessoas tentando realizar algumas atividades.
- () No trabalho em equipe, os elementos têm um objetivo comum, responsabilidades individuais e mútuas.
- () Em toda equipe de trabalho, a comunicação entre os elementos se realiza com facilidade, sem bloqueios, distorções ou discordâncias.
- () Quanto maior é a equipe de trabalho, maior é o êxito alcançado em suas tarefas.
- () Para a formação de uma equipe de trabalho é indispensável que os elementos trabalhem no mesmo local, na mesma área e desempenhem as mesmas atividades.

A sequência **CORRETA** é:

- a) F, V, F, V, F.
- b) F, F, V, V, V.
- c) V, V, F, F, F.
- d) V, V, F, F, V.
- e) V, F, V, F, V.